

België

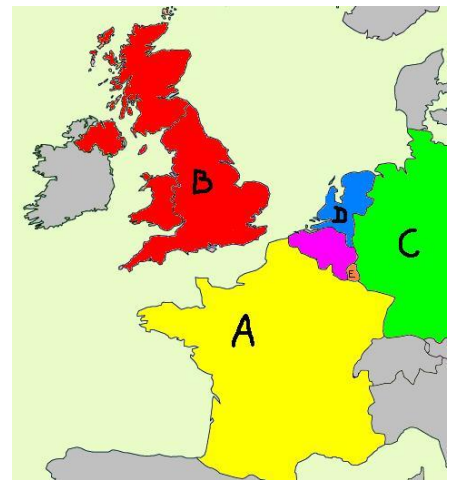


Waar ligt België?

België ligt in het continent _____

De buurlanden van België zijn:

- A. _____
- B. _____
- C. _____
- D. _____



Enkele weetjes:

Hoofdstad:

Staatshoofd:

Eerste minister:

Munteenheid:

Ken jij België?

België is onafhankelijk sinds: _____

De nationale feestdag: _____

Volkslied: _____

Dit is de tekst van het volkslied:


"O dierbaar België
O heilig land der vaad'ren
Onze ziel en ons kracht zijn u gewijd.
Aanvaard ons hart en het bloed van onze adren,
Wees ons doel in arbeid en in strijd.
Bloei, o land, in eendracht niet te breken;
Wees immer u zelf en onge knecht,
Het woord getrouw, dat ge onbevreesd moogt spreken:
Voor Vorst, voor Vrijheid en voor Recht. (x3)"

De leus: _____

Het wapenschild:



De vlag: Kleur de vlag in zijn juist kleuren



Zet deze symbolen in het kader:


feestdag, vlag, volkslied, wapen

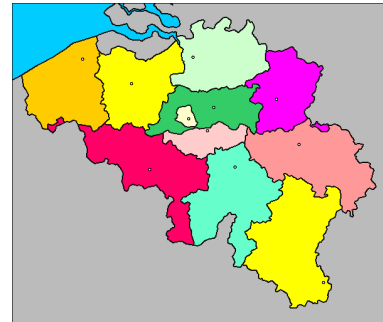
Symbool	Omschrijving
.....	Je vindt mij altijd aan officiële gebouwen zoals het gemeentehuis, het koninklijk paleis, ... Bij belangrijke gebeurtenissen vind je me ook wel een bij de gewone burger. Meestal ben ik vrolijk en wapper ik in de wind. Als er iets fout loopt, hang ik triestig halfstok.
.....	Je vindt mij aan officiële gebouwen zoals het gemeentehuis, het parlement, het koninklijk paleis, ... Ik sier de officiële brieven. Ook adellijke families gebruiken mij.
.....	Ik hoop dat alle burgers mij kennen. Je krijgt mij te horen bij belangrijke gebeurtenissen. Samen zingen symboliseert de samenhang van de inwoners van ons land.
.....	Dankzij mij vieren alle inwoners feest. De dag verwijst meestal naar een belangrijke gebeurtenis in het verleden.

België gedeeld:


↗ België bestaat uit drie taalgebieden: schrijf in de legende welk taalgebied het is



 Zoek de 10 provincies en zijn 10 hoofdsteden.
Gebruik hiervoor de atlas:



Povincie	Hoofdstad

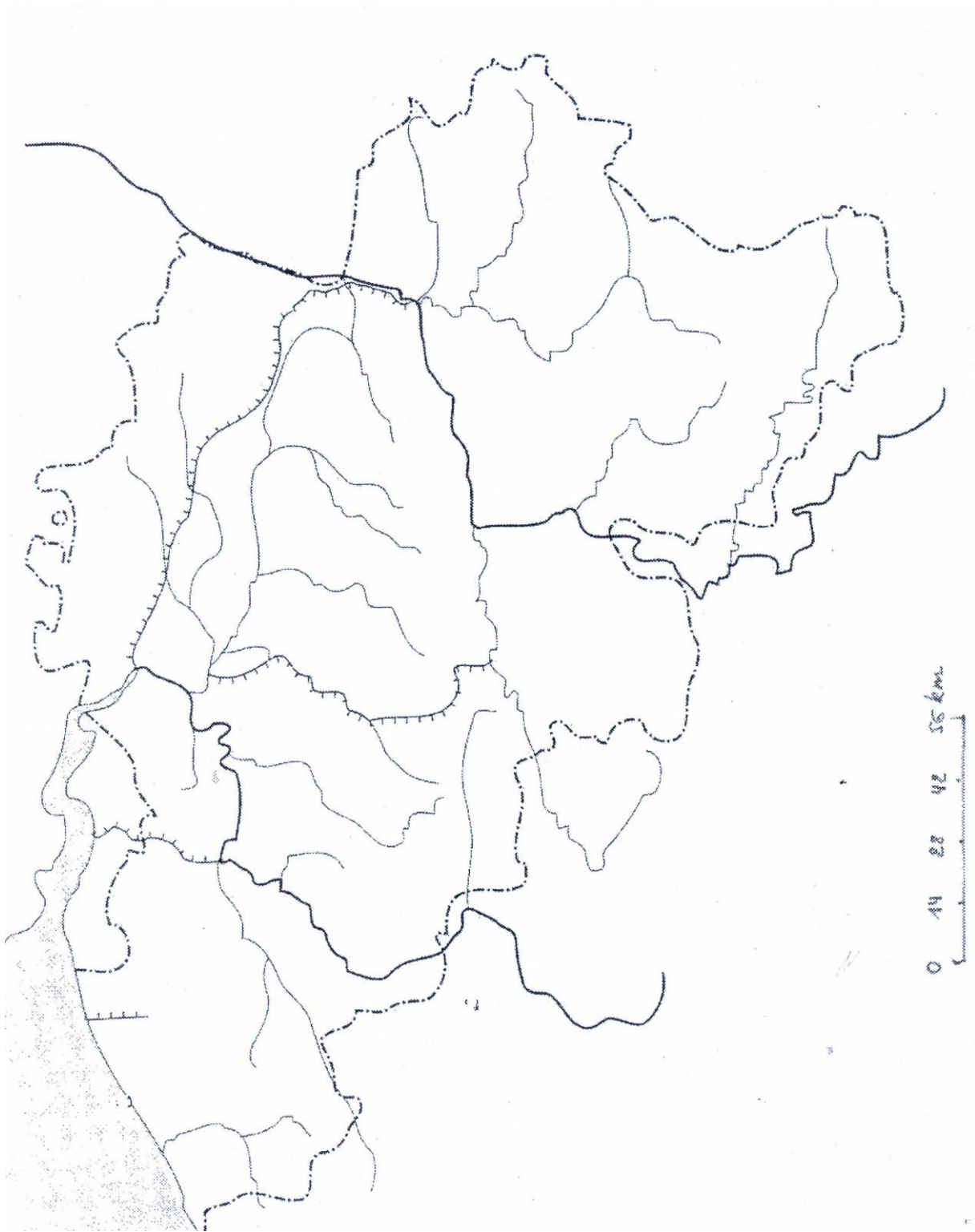
 Zeeën en rivieren.


België wordt in het westen begrensd door water. Dit is een oceaan / zee / rivier.
We noemen ze de

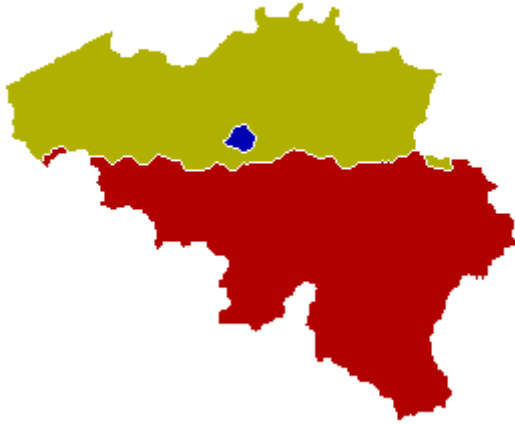
In ons land hebben we ook een aantal belangrijke rivieren.
Duid de volgende rivieren in het blauw aan op de kaart:

- Schelde
- Maas
- Samber
- IJzer

Gebruik je atlas of internet!



 België is verdeeld in 3 gewesten: De gewesten zijn duidelijk afgebakende gebieden. Ze beslissen over zaken die hun grondgebied aangaan. Zo nemen zij onder meer economie, milieu, ruimtelijke ordening en tewerkstelling voor hun rekening.



Geef mij de namen van de 3 gewesten.
Gebruik je atlas of het internet.

1. _____


2. _____

3. _____

Zoek mij op het internet de drie symbolen van deze gewesten. Teken hen na.

--	--	--

Typisch Belgisch:

 Geef een voorbeeld dat typisch Belgisch is van:

Eten:

Monument:

Muziek:

Lied:

